



अध्ययन मंत्र®

AM PYQ'S Papers


To know about previous years
Exam pattern and Level of questions



95556-95557

www.adhyayanmantra.com

 Offline Classroom Program

 Online Classroom Program
Available

 **Available**
GTB Nagar | Uttam Nagar



GET IT ON
Google Play

Download Adhyayan
Mantra Connected App

Adhyayan Mantra
Official App Store



KVS PGT 18 Dec 2018 (English)

PART - I / भाग - I

(1) General English / सामान्य अंग्रेजी

- Complete the following sentence by using the correct form of the verb. Use the options given below :
I didn't bring my wallet. Since you invited me to lunch I guessed you _____.
(1) had given some money
(2) will have some money on you
(3) might have had some money on you
(4) might given some money
- Choose the description that best captures the meaning of the word INCORRIGIBLE :
(1) showing extreme resistance to certain types of food
(2) having resilience and tenacity not usually found in others
(3) displaying signs of fatigue and infection in the body
(4) having bad habits that cannot be changed or improved
- Choose the word/phrase that gives the best meaning of the word underlined in this sentence :
Your findings are original but you haven't familiarized yourself with the nomenclature of the specimens.
(1) system of classifying things
(2) uses of
(3) value of
(4) system of naming things
- Improve the underlined phrase in the following sentence with the help of given options :
Applications for this position should be filed by next Saturday latest .
(1) latest next Saturday
(2) latest by Saturday next
(3) next Saturday at the latest
(4) next Saturday latest
- Complete the following sentence by using the correct form of the verb. Use the options given below :
She was too nervous to speak before such a large audience and _____.
(1) was prompted
(2) will be prompted
(3) has to be prompted
(4) had to be prompted
- Choose the word most nearly OPPOSITE in meaning to the given word : DILATE
(1) abduct (2) contract
(3) expand (4) shrink
- Choose the one meaning which best expresses the idiom, Hobson's choice .
(1) a situation in which you have no choice because if you don't accept what is given, you get nothing at all
(2) a situation in which you have all choice but if you accept the choice you forfeit the right to choice again
(3) a choice where your fortunes have already been decided before you exercise the choice
(4) a choice which is a win-win situation for parties involved in unlike business
- Choose the right description that best captures the meaning of the word, MARGINALIA :
(1) members of a group who do not actually fight but observe combat from outside
(2) notes written in the margins of a book or documents you have read
(3) people who have had an experience of border countries and territories
(4) marked with pencil and drawn on the roofs of public buildings
- Identify the part of the following sentence that has/may have an error.
Roses grow with abundance against this
(1) (2)
old wall in this season
(3) (4)
- Improve the underlined phrase in the following sentence with the help of given options :
Raju seemed to be living at some remove from reality.
(1) from some remove
(2) in a remove
(3) at one remove
(4) at certain remove



PART - I / भाग - I
(2) General Hindi / सामान्य हिन्दी

11. 'कबीर' का संबंध किस काव्यधारा से है ?
- (1) ज्ञानमार्गी निर्गुण भक्तिधारा
(2) राम भक्तिधारा
(3) प्रेममार्गी सूफी काव्यधारा
(4) कृष्ण भक्तिधारा
12. रामधारी सिंह 'दिनकर' की प्रसिद्ध रचना का नाम है :
- (1) उर्वशी
(2) यशोधरा
(3) चिदंबरा
(4) कामायनी
13. अनेकार्थक शब्द के रूप में 'गुरु' का कौन-सा अर्थ अनुपयुक्त है ?
- (1) शिक्षक
(2) एक नक्षत्र
(3) पचाने में कठिन
(4) भारी
14. " _____ हो क्या? किसी बात पर तो दृढ़ रहो।"
- रिक्त स्थान के लिए उपयुक्त मुहावरा होगा :
- (1) सोने पे सुहागा
(2) बेपेंदी का लोटा
(3) मोटी अक्ल का
(4) पत्थर की लकीर
15. "टॉस युवा भारतीय टीम ने जीता और बल्लेबाजी प्रारंभ की"।
- उपर्युक्त वाक्य के 'उद्देश्य' को किस विकल्प में सही प्रदर्शित किया गया है ?
- (1) युवा भारतीय टीम ने
(2) बल्लेबाजी
(3) टॉस
(4) भारतीय टीम ने
16. जब अर्थ का ग्रहण अभिधा से न हो किंतु उससे संबद्ध हो तो अर्थग्रहण कराने वाली शब्द-शक्ति को कहेंगे :
- (1) ध्वनि (2) अभिधा मूला
(3) व्यंजना (4) लक्षणा
17. दूर से फेंककर चलाया जाने वाला हथियार कहलाता है :
- (1) आयुध (2) तलवार
(3) अस्त्र (4) शस्त्र
18. " _____ के कारण मैं रस्सी को साँप समझ बैठा।"
- रिक्त स्थान के लिए उपयुक्त शब्द होगा :
- (1) भय (2) भ्रम
(3) संदेह (4) जिज्ञासा
19. अर्थ व्यक्त करने वाली सबसे छोटी इकाई है :
- (1) शब्द (2) वाक्य
(3) ध्वनि (4) वर्ण
20. 'स्नेह' का शाब्दिक अर्थ नहीं है :
- (1) चिकनाई (2) गोद
(3) प्रेम (4) तेल



PART - II / भाग - II

(1) Gen. Knowledge And Current Affairs / सामान्य ज्ञान व समसामयिक घटनायें

21. Where among the following has the world's largest solar park recently been inaugurated ?
- (1) Karnataka (2) Chennai
(3) Delhi (4) Mumbai
22. Who moved the Objectives Resolution which stated the aims of the Constituent Assembly ?
- (1) B.R. Ambedkar
(2) Rajendra Prasad
(3) B.N. Rau
(4) Jawaharlal Nehru
23. One of the following is true about the Harappan script :
- (1) It is comparable to the Roman script.
(2) It is written from left to right like the Devanagari.
(3) It is an alphabetic script.
(4) It is a pictographic script.
24. Which one of the following settlement pattern is likely to develop in plain fertile agricultural regions ?
- (1) Linear
(2) Circular
(3) Rectangular
(4) Star-shaped
25. Who among the following recently won the special Golden Man Booker Prize, which marks the 50th anniversary of the prestigious award, Man Booker Prize ?
- (1) Michael Ondaatje
(2) Kiran Desai
(3) V.S. Naipaul
(4) Salman Rushdie
21. निम्नलिखित में से किस स्थान पर हाल ही में विश्व के सबसे बड़े सोलर पार्क का उद्घाटन किया गया है ?
- (1) कर्नाटक (2) चेन्नई
(3) दिल्ली (4) मुंबई
22. संविधान सभा के उद्देश्यों का उल्लेख करने वाले उद्देश्य प्रस्तावना (ऑब्जेक्टिव्स रिजॉल्यूशन) किसने पेश किया ?
- (1) बी.आर. अंबेडकर
(2) राजेंद्र प्रसाद
(3) बी.एन. राव
(4) जवाहरलाल नेहरू
23. हड़प्पीय लिपि के विषय में निम्नलिखित में से एक सही है :
- (1) यह रोमन लिपि से तुलनीय है।
(2) देवनागरी की भाँति यह बायें से दाहिनी ओर लिखी गई है।
(3) यह वर्णमालात्मक लिपि है।
(4) यह चित्रलेख लिपि है।
24. निम्नलिखित में से कौन-सा बस्ती पैटर्न समतल उपजाऊ कृषि-क्षेत्र के रूप में विकसित हो सकता है ?
- (1) रेखाकार
(2) वृत्ताकार
(3) आयताकार
(4) ताराकृति
25. निम्नलिखित में से किसने हाल में प्रतिष्ठित सम्मान 'मैन बुकर प्राइज़' की 50^{वीं} जयंती के उपलक्ष्य में 'विशिष्ट गोल्डन मैन बुकर प्राइज़' जीता ?
- (1) मीशेल ओन्डजो
(2) किरन देसाई
(3) वी.एस. नायपॉल
(4) सलमान रुश्दी



26. Which of the following statements is **not true**, regarding the 'Brown Agenda'?
- (1) The emphasis of Brown Agenda is on Inter-generational equity
 - (2) Brown agenda deals with local issues of the urban poor and the disadvantaged
 - (3) Brown agenda deals with environmental issues, associated with urban and industrial areas
 - (4) Brown agenda deals with issues such as pollution, waste disposal and the provision of safe drinking water and affordable housing
27. The introduction of economic and political reform policies of Perestroika is associated with which of the following political leader?
- (1) Nikita Khrushchev
 - (2) Mikhail Gorbachev
 - (3) Boris Yeltsin
 - (4) Vladimir Putin
28. When did sustainable development goals come into effect?
- (1) January 2016
 - (2) July 2016
 - (3) January 2015
 - (4) July 2015
29. Who won the silver medal in badminton in the Asian Games, 2018?
- (1) Saina Nehwal
 - (2) Syed Modi
 - (3) P.V. Sindhu
 - (4) Taipei Tai Tzuying
30. In which population interactions both the species benefit?
- (1) Amensalism
 - (2) Mutualism
 - (3) Competition
 - (4) Commensalism
26. 'ब्राउन एजेंडा' के बारे में निम्नलिखित में से कौन-सा कथन सत्य नहीं है?
- (1) 'ब्राउन एजेंडा' अन्तः पीढ़ियों की समानता को महत्व देता है।
 - (2) 'ब्राउन एजेंडा' शहरी गरीबों की स्थानीय समस्याओं और बर्चियों से जुड़ा है।
 - (3) 'ब्राउन एजेंडा' का सम्बन्ध शहरी और औद्योगिक क्षेत्रों की पर्यावरण समस्या से है।
 - (4) 'ब्राउन एजेंडा' का सम्बन्ध प्रदूषण, कचरा-निष्पादन, शुद्ध पेयजल प्रवन्धन और आवास उपलब्धता जैसी समस्याओं से है।
27. पेरिस्ट्रोइका की आर्थिक तथा राजनीतिक सुधार नीतियों का आरंभ निम्नलिखित में से किस राजनीतिक नेता के साथ जुड़ा है?
- (1) निकिता ख्रुश्चेव
 - (2) मिखाइल गोर्बाचेव
 - (3) बोरिस येल्ट्सिन
 - (4) व्लादीमिर पूतिन
28. धारणीय (सस्टेनेबल) विकास लक्ष्य कबसे प्रभाव में आए?
- (1) जनवरी 2016
 - (2) जुलाई 2016
 - (3) जनवरी 2015
 - (4) जुलाई 2015
29. 2018 के एशियाई खेलों में बैडमिंटन का रजत पदक निम्नलिखित में से किसने जीता?
- (1) साइना नेहवाल
 - (2) सैयद मोदी
 - (3) पी.वी. सिंधू
 - (4) ताइपीस ताइ जूयिंग
30. किन आबादियों की अन्योन्यक्रियाओं में दोनों ही प्रजातियों को लाभ होता है?
- (1) अमेन्सलिज्म
 - (2) म्यूचुअलिज्म
 - (3) कॉम्पिटिशन
 - (4) कॉमेन्सलिज्म



PART - II / भाग - II

(2) Reasoning Ability / तार्किक योग्यता

31. Select the correct alternative from the given ones that will complete the number series.

7, 14, 42, 168, ___ ?

- (1) 840 (2) 504
(3) 672 (4) 1008

32. Five friends A, B, C, D and E are sitting on a bench in such a way that :

- (a) C is sitting to immediate left of A.
(b) B is sitting to the right of A and D.
(c) E is sitting to the left of C and A.

Who is sitting in the middle ?

- (1) C (2) D
(3) A (4) B

33. Select the correct option which is related to the third term in the same way as second term is related to the first.

NQSW : MPRV :: CFHL : ?

- (1) BFJN (2) BEGK
(3) DEGJ (4) EBGJ

34. If SUPREME is coded as DLDSRTO, How would BROUGHT be coded ?

- (1) SGFVAQN (2) SGFNVAQ
(3) SGFNQNA (4) SGFVQAN

31. निम्नलिखित में से सही विकल्प को चुनिये जो संख्या श्रेणी को पूरा करता हो :

7, 14, 42, 168, ___ ?

- (1) 840 (2) 504
(3) 672 (4) 1008

32. किसी तख्त पर पाँच मित्र A, B, C, D और E इस प्रकार बैठे हैं कि :

- (a) C, A के निकटतम बायें बैठा है।
(b) B, A और D के दायें बैठा है।
(c) E, C तथा A के बायें बैठा है।

बीच में कौन बैठा है ?

- (1) C (2) D
(3) A (4) B

33. उस सही विकल्प का चयन कीजिये जो तीसरे पद से उसी प्रकार संबंधित है जिस प्रकार दूसरा पद पहले पद से संबंधित है।

NQSW : MPRV :: CFHL : ?

- (1) BFJN (2) BEGK
(3) DEGJ (4) EBGJ

34. यदि SUPREME को DLDSRTO के रूप में कूटबद्ध किया जाए, तो BROUGHT को किस रूप में कूटबद्ध किया जा सकता है ?

- (1) SGFVAQN (2) SGFNVAQ
(3) SGFNQNA (4) SGFVQAN

X - 6

SPACE FOR ROUGH WORK / रफ कार्य के लिए जगह

18A301




35. In a row of children, Bhavana is ninth from the left and Ashu is thirteenth from the right. They exchange their positions and then Bhavana becomes seventeenth from the left. Find the new position of Ashu from the right end of the row.

- (1) 22nd (2) 23rd
(3) 20th (4) 21st

36. A man stands facing West. He turns 135° clockwise and then he turned 180° anticlockwise. Then, he turned 45° clockwise. What was his final direction ?

- (1) South-West (2) South
(3) North-West (4) West

37. Complete the following figure matrix by selecting the right figure from the given options.



- (1)
- (2)
- (3)
- (4)


35. बच्चों की किसी पंक्ति में भावना बायें से नौवें स्थान पर तथा आशु दायें से तेरहवें स्थान पर है। वे अपना स्थान बदल लेते हैं, तब भावना का बायें से सत्रहवां स्थान हो जाता है। अब इस पंक्ति के दाहिनी छोर से आशु का नया स्थान क्या है ?

- (1) 22 वां (2) 23 वां
(3) 20 वां (4) 21 वां

36. एक व्यक्ति पश्चिम की ओर मुँह करके खड़ा है। वह घड़ी की दिशा में 135° मुड़ता है तदनन्तर घड़ी की विपरीत दिशा में 180° मुड़ता है। फिर वह घड़ी की दिशा में 45° मुड़ता है। उसकी अंतिम दिशा क्या है ?

- (1) दक्षिण-पश्चिम (2) दक्षिण
(3) उत्तर-पश्चिम (4) पश्चिम

37. नीचे दिये गये विकल्प से सही चित्र को चुनते हुए निम्न चित्र आव्यूह को पूरा कीजिये :



- (1)
- (2)
- (3)
- (4)



38. In family of six, there are three men X, Y and Z and three women A, B and C. The family has an Architect, a Lawyer, a Professor, a Chartered Accountant, a Doctor and an Engineer. The description of family is given below :

- There are two married couples and two unmarried persons
- The doctor is married to Lawyer
- X is married to the CA
- A's father is a Professor
- The Lawyer is C's daughter-in-law
- Z is not A's husband
- Y is not X's son, nor is he an Architect or Professor

Who is the Architect ?

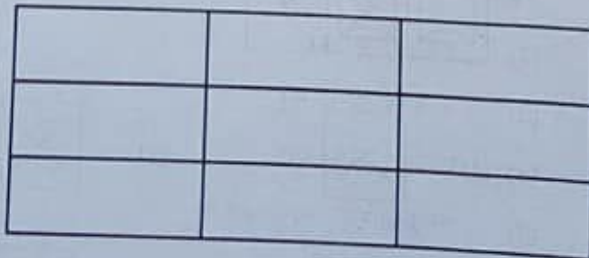
- (1) X (2) Z
(3) A (4) B

39. Choose out the odd one :

Tricycle, Trident, Trifle, Tricolour

- (1) Tricycle (2) Tricolour
(3) Trifle (4) Trident

40. Count the number of rectangles of any size embedded in the given figure and select the right answer from the given options.



- (1) 36 (2) 48
(3) 21 (4) 27

38. किसी परिवार में छह सदस्य हैं जिनमें से तीन पुरुष X, Y तथा Z तथा तीन स्त्रियाँ A, B तथा C हैं। इस परिवार में एक वास्तुकार, एक वकील, एक प्रोफेसर, एक चार्टर्ड एकाउंटन्ट, एक डॉक्टर तथा एक इंजीनियर हैं। परिवार का वर्णन इस प्रकार है :

- इसमें दो विवाहित दंपति और दो अविवाहित व्यक्ति हैं।
- डॉक्टर का विवाह वकील से हुआ है।
- X का विवाह चार्टर्ड एकाउंटन्ट से हुआ है।
- A का पिता प्रोफेसर है।
- वकील, C की पुत्रवधू है।
- Z, A का पति नहीं है।
- Y, X का पुत्र नहीं है। वह वास्तुकार तथा प्रोफेसर भी नहीं है।

वास्तुकार कौन है ?

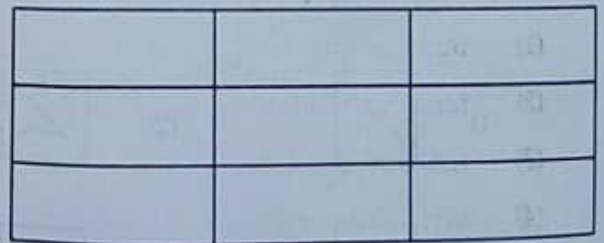
- (1) X (2) Z
(3) A (4) B

39. विषम को चुनिये :

तिपहिया, त्रिशूल, छोटी-सी बात, तिरंगा

- (1) तिपहिया (2) तिरंगा
(3) छोटी-सी बात (4) त्रिशूल

40. दिये गये चित्र में निहित किसी भी आकार वाले आयतों की संख्या बताइये तथा दिये गये विकल्प से सही उत्तर को चुनिये।



- (1) 36 (2) 48
(3) 21 (4) 27



PART - II / भाग - II

(3) Computer Literacy / कम्प्यूटर साक्षरता

41. Speed of internet connection is measured in _____.
- (1) dpi (2) ppm
(3) Gbps (4) GHz
42. File with _____ extension stores _____ and file with _____ extension stores _____.
- (1) bmp, image, mp3, sound
(2) jpeg, image, sound, mp3
(3) bmp, sound, mp3, song
(4) bmp, sound, mp3, image
43. FAQ stands for :
- (1) Favourite Asked Questions
(2) Favourite and Answered Questions
(3) Frequently Answered Questions
(4) Frequently Asked Questions
44. The top most row of keys on the standard keyboard contains _____ keys, and the longest key on the keyboard is _____.
- (1) number, enter key
(2) function, enter key
(3) function, space bar
(4) alphabetic, space bar
45. Computers which offer information are called _____, and those which seek information are called _____.
- (1) Clients, servers
(2) Applications, complex softwares
(3) System software, application software
(4) Servers, clients
41. इंटरनेट कनेक्शन की गति _____ में मापी जाती है।
- (1) dpi (2) ppm
(3) Gbps (4) GHz
42. _____ एक्सटेंशन वाली फाइलों में _____ स्टोर होता है तथा _____ एक्सटेंशन वाली फाइलों में _____ स्टोर होता है।
- (1) bmp, चित्र, mp3, ध्वनि
(2) jpeg, चित्र, ध्वनि, mp3
(3) bmp, ध्वनि, mp3, गाना
(4) bmp, ध्वनि, mp3, चित्र
43. एफ.ए.क्यू. का अर्थ है :
- (1) फेवरिट आस्कड क्वेश्चंस
(2) फेवरिट एंड आनसर्ड क्वेश्चंस
(3) फ्रीक्वेंटली आनसर्ड क्वेश्चंस
(4) फ्रीक्वेंटली आस्कड क्वेश्चंस
44. मानक कीबोर्ड पर कीज की सबसे ऊपर वाली पंक्ति में _____ कीज होती है तथा कीबोर्ड पर सबसे लंबी 'की' _____ है।
- (1) नंबर, एंटर 'की'
(2) फंक्शन, एंटर 'की'
(3) फंक्शन, स्पेस बार
(4) एल्फाबेटिक, स्पेस बार
45. सूचना प्रदान करने वाले कम्प्यूटर _____ कहलाते हैं तथा सूचना माँगने वाले कम्प्यूटर _____ कहलाते हैं।
- (1) क्लाइंट, सर्वर
(2) एप्लीकेशन, कॉम्प्लेक्स सॉफ्टवेयर
(3) सिस्टम सॉफ्टवेयर, एप्लीकेशन सॉफ्टवेयर
(4) सर्वर, क्लाइंट



46. Hitting _____ key and _____ will open a dialogue box for searching a word in pdf file.

- (1) Ctrl, F (2) Ctrl, S
(3) Alt, F (4) Alt, S

47. Which of the following is **not** a type of printer ?

- (1) 3-d (2) Landscape
(3) Laserjet (4) Inkjet

48. Email addresses in _____ field are visible to all recipients. Email addresses in _____ field are visible to only the recipient.

- (1) To and Bcc, Cc
(2) To and Cc, Bcc
(3) Bcc, To
(4) Cc and Bcc, To

49. Choose the best option :

An antivirus program is designed to _____ computer virus.

- (1) scan device and identify
(2) scan device, identify and eliminate
(3) scan device and eliminate
(4) identify and eliminate

50. Which of the following actions will not delete a file on Windows desktop ?

- (1) select file, hit delete key
(2) double click on file, hit delete key
(3) drag and drop in recycle bin
(4) select file → right click → delete

46. पीडीएफ फाइल में _____ तथा _____ 'की' दबाने से शब्द खोजने के लिए डायलॉग बॉक्स खुलेगा।

- ✓ (1) Ctrl, F (2) Ctrl, S
(3) Alt, F (4) Alt, S

47. निम्नलिखित में से कौन सा प्रिंटर का प्रकार नहीं है ?

- ✓ (1) 3-डी (2) लैंडस्केप
(3) लेजरजेट (4) इंकजेट

48. _____ फील्ड में ई-मेल एड्रेस सभी प्राप्तकर्ताओं को प्रदर्शित होते हैं। _____ फील्ड में ई-मेल एड्रेस केवल प्राप्तकर्ता को प्रदर्शित होते हैं।

- (1) To तथा Bcc, Cc
(2) To तथा Cc, Bcc
(3) Bcc, To
(4) Cc तथा Bcc, To

49. सर्वोत्तम विकल्प चुनिए :

किसी एंटीवायरस प्रोग्राम का डिजाइन क्या करने के लिए किया जाता है ?

- (1) डिवाइस को स्कैन करने तथा कंप्यूटर वायरस की पहचान करने
(2) डिवाइस को स्कैन करने तथा कंप्यूटर वायरस की पहचान व उसे हटाने
(3) डिवाइस को स्कैन करने तथा कंप्यूटर वायरस को हटाने
✓ (4) डिवाइस की पहचान करने तथा कंप्यूटर वायरस को हटाने

50. निम्नलिखित में से कौन सी क्रिया से विंडोज डेस्कटॉप की फाइल डिलीट नहीं होगी ?

- ✓ (1) सिलेक्ट फाइल → Del 'की' दबाएं
(2) फाइल पर डबल क्लिक करे, डिलीट 'की' दबाएं
(3) ड्रैग तथा रीसाइकिल बिन में ड्रॉप
(4) सिलेक्ट फाइल → राइट क्लिक → डिलीट



PART - II / भाग - II

(4) Pedagogy / शिक्षाशास्त्र

51. Which of the following are characteristic features of communication ?
- (a) It involves exchange of ideas, facts and opinions
(b) It is a continuous process
(c) It is both verbal and non-verbal
(d) It is synchronous in nature
- (1) (a), (b) and (d)
(2) (b), (c) and (d)
(3) (a), (c) and (d)
(4) (a), (b) and (c)
52. Which of the following plans may be least learner centred ?
- (1) Instructional plan
(2) Unit plan
(3) Lesson plan
(4) Activity plan
53. The concept of curriculum development excludes :
- (1) International considerations
(2) Family aspirations
(3) Societal goals
(4) National goals
54. For conducting physics experiments, a science laboratory should necessarily have :
- (1) Gas connection
(2) Drainage system
(3) Availability of natural light and ventilation
(4) Demonstration Table
51. निम्नलिखित में से कौन सी संप्रेषण की चारित्रिक विशेषताएं हैं ?
- (a) इसमें विचारों, तथ्यों तथा राय का आदान-प्रदान शामिल है।
(b) यह एक सतत प्रक्रिया है।
(c) यह शाब्दिक और गैर-शाब्दिक, दोनों प्रकार का होता है।
(d) यह प्रकृति में समकालिक होता है।
- (1) (a), (b) और (d)
(2) (b), (c) और (d)
(3) (a), (c) और (d)
(4) (a), (b) और (c)
52. निम्नलिखित में से कौन सी योजना सबसे कम शिक्षार्थी केन्द्रित है ?
- (1) अनुदेशात्मक योजना
(2) इकाई योजना
(3) पाठ योजना
(4) क्रिया योजना
53. पाठ्यक्रम के विकास की संकल्पना में क्या शामिल नहीं है ?
- (1) अन्तर्राष्ट्रीय विचार
(2) परिवार की आकांक्षाएँ
(3) सामाजिक लक्ष्य
(4) राष्ट्रीय लक्ष्य
54. भौतिकी का प्रयोग करने के लिए एक विज्ञान प्रयोगशाला में अनिवार्य रूप से क्या होना चाहिए ?
- (1) गैस कनेक्शन
(2) जल-निकासी प्रणाली
(3) प्राकृतिक रोशनी और संवातन की उपलब्धता
(4) प्रदर्शन मेज



55. What is meant by plus curriculum for special needs children ?

- (1) Additional curriculum for special needs children
- (2) Curriculum on skill areas which are specific to special difficulties of CWSN
- (3) A modified curriculum for education of the children with special needs (CWSN)
- (4) Lessons or academic content meant for CWSN

56. The idea behind supplementary learning material is to :

- (1) Provide material in less important areas
- (2) Increase learner's text reading interests
- (3) Further enrich learner's interest in various subjects
- (4) Provide material in the areas not covered by the teacher

57. It is suggested that a teacher can improve her/his communication by following _____ C's and _____ S's. Which of the below given alternative holds true ?

- (1) Six C's and three S's
- (2) Eight C's and four S's
- (3) Seven C's and four S's
- (4) Seven C's and three S's

58. A science teacher has joined a rural school at the beginning of the academic session. Which of the following tests he should use ?

- (1) Situational test
- (2) Diagnostic test
- (3) Achievement test
- (4) In basket test

55. विशेष आवश्यकता वाले बालकों के लिए 'प्लस' पाठ्यक्रम का क्या अर्थ है ?

- (1) विशेष आवश्यकता वाले बच्चों के लिए अतिरिक्त पाठ्यक्रम।
- (2) ऐसे कौशल क्षेत्रों पर आधारित पाठ्यक्रम जो विशेष आवश्यकता वाले बालकों की विशेष कठिनाइयों के प्रति विशिष्ट हों।
- (3) विशेष आवश्यकता वाले बालकों के लिए एक रूपान्तरित पाठ्यक्रम।
- (4) विशेष आवश्यकता वाले बालकों के लिए पाठ अथवा शैक्षिक विषय-वस्तु।

56. अनुपूरक शिक्षण सामग्री का उद्देश्य है :

- (1) कम महत्वपूर्ण क्षेत्रों में सामग्री उपलब्ध कराना
- (2) शिक्षार्थी की पुस्तक पढ़ने की रुचि को बढ़ाना
- (3) शिक्षार्थी की अनेक विषयों में रुचि को और बढ़ाना
- (4) अध्यापक द्वारा कवर न किए गए क्षेत्रों में सामग्री उपलब्ध कराना

57. यह सुझाव दिया जाता है कि एक अध्यापक निम्नलिखित _____ C और _____ S द्वारा अपने संप्रेषण में सुधार कर सकता है। निम्नलिखित विकल्पों में से कौन सा विकल्प सही है ?

- (1) छह C और तीन S
- (2) आठ C और चार S
- (3) सात C और चार S
- (4) सात C और तीन S

58. एक विज्ञान के शिक्षक ने शैक्षणिक सत्र के आरंभ में एक ग्रामीण विद्यालय में कार्यभार संभाला। उन्हें निम्नलिखित में से कौन से परीक्षण का प्रयोग करना चाहिए ?

- (1) परिस्थितिगत परीक्षण
- (2) नैदानिक परीक्षण
- (3) उपलब्धि परीक्षण
- (4) इन बाँस्केट परीक्षण



59. One essential feature of a good teaching aid is :

- (1) Low cost
- (2) Popular
- (3) Involving participation of maximum senses
- (4) Easy to handle

60. The classic format of the lesson plan is as per _____.

- (1) Herbertian steps
- (2) Hila Taba steps
- (3) Hilgardian steps
- (4) Haber's steps

61. The term 'Grape-vine communication' refers to :

- (1) formal communication
- (2) informal communication
- (3) advertisement and publicity
- (4) selective perception

62. The phenomenon in telecommunication and media industry to integrate services, content, offerings and means of communication under one core technology is termed as :

- (1) Multi-media
- (2) On-line communication
- (3) Convergence
- (4) Integrated media

63. A child who reads "dog" as "god" or "bat" as "tab" suffers from which type of disability ?

- (1) dyspraxia
- (2) dyslexia
- (3) dysgraphia
- (4) dysphasia

59. एक अच्छी शिक्षण सहायक सामग्री की अनिवार्य विशेषता क्या है?

- (1) कम लागत
- (2) लोकप्रिय
- (3) अधिकतम ज्ञानेन्द्रियों की भागीदारी
- (4) संभालने में आसान

60. पाठयोजना का क्लासिक प्रारूप है :

- (1) हरबर्ट सोपान
- (2) हिला टाबा सोपान
- (3) हिलगार्डियन सोपान
- (4) हाबर का सोपान

61. 'ग्रेपवाइन संप्रेषण' पद का अर्थ है :

- (1) औपचारिक संप्रेषण
- (2) अनौपचारिक संप्रेषण
- (3) विज्ञापन और प्रचार
- (4) चयनित अवबोध

62. दूरसंचार और मीडिया उद्योग में सेवाओं, विषय-वस्तु, पेशकश और संचार के माध्यमों को एक मुख्य प्रौद्योगिकी के अंतर्गत लाने की प्रक्रिया को क्या कहते हैं ?

- (1) मल्टी-मीडिया
- (2) ऑन-लाइन कम्यूनिकेशन
- (3) अभिसारिता
- (4) इंटीग्रेटेड मीडिया

63. एक बालक जो "dog" को "god" या "bat" को "tab" पढ़ता है, निम्नलिखित में से किस प्रकार की निःशक्तता से पीड़ित है ?

- (1) गति-समन्वय वैकल्य (डिसप्रैक्सिया)
- (2) वाचन-वैकल्य (डिसलेक्सिया)
- (3) लेखन-वैकल्य (डिसग्राफिया)
- (4) भाषा - वैकल्य (डिसफेशिया)



64. In curricular construction, the act of dividing content as per the class levels will come under :
- (1) Selection of content
 - (2) Gradation of content
 - (3) Organisation of content
 - (4) Classification of content
65. An itinerant teacher is one who is :
- (1) qualified to offer special services in different inclusive / integrated schools
 - (2) expert in a number of curricular areas
 - (3) a special teacher appointed for a particular inclusive school
 - (4) a special teacher appointed temporarily on ad hoc basis
66. Hearing impaired children exhibit :
- (1) barriers in communication by language
 - (2) barriers in moving around
 - (3) barriers in individuals self-care skills
 - (4) barriers in tactile skills
67. The purpose of achievement tests is **not** to :
- (1) Know what students have learnt
 - (2) Know the areas where the learners are weak
 - (3) Grade learners as sharp, weak and average
 - (4) Ascertain the fulfilment of scholastic goals
64. पाठ्यक्रम बनाने में, कक्षा स्तर के अनुसार विषय-वस्तु को विभाजित करने का काम किसके अंतर्गत आता है ?
- (1) विषय-वस्तु का चुनाव
 - (2) विषय-वस्तु का श्रेणीकरण
 - (3) विषय-वस्तु का व्यवस्थापन
 - (4) विषय-वस्तु का वर्गीकरण
65. एक बहुस्थलीय अध्यापक वह होता है जो :
- (1) विभिन्न समावेशी/एकीकृत विद्यालयों में विशेष सेवाएं देने के लिए योग्यता प्राप्त हो।
 - (2) अनेक पाठ्यक्रम संबंधी क्षेत्रों में निपुण हो।
 - (3) एक विशेष समावेशी विद्यालय के लिए नियुक्त एक विशेष अध्यापक।
 - (4) अस्थायी या तदर्थ आधार पर नियुक्त एक विशेष अध्यापक।
66. श्रवण बाधित (बधिर) बालक प्रदर्शित करता है :
- (1) भाषा के द्वारा संप्रेषण में बाधा
 - (2) घूमने-फिरने में बाधा
 - (3) व्यक्ति की स्वयं की देखभाल करने संबंधी कौशलों में बाधा
 - (4) स्पर्शनीय कौशलों में बाधा
67. निम्नलिखित में से क्या उपलब्धि परीक्षा का उद्देश्य नहीं है ?
- (1) यह जानना कि छात्रों ने क्या सीखा है
 - (2) यह जानना कि छात्र किन क्षेत्रों में कमजोर है
 - (3) छात्रों को तेज, कमजोर और औसत वर्ग में बांटना
 - (4) शैक्षिक लक्ष्यों की प्राप्ति का पता लगाना



68. Identify the statements that are consistent with the social model of disability :

- (a) Impairments should be fixed by medical or other treatments.
- (b) Disability is caused by the way society is organized.
- (c) Impairment is the focus of attention.
- (d) The children are valued in their own right.

- (1) (b) and (d) (2) (a) and (c)
(3) (a) and (d) (4) (b), (c) and (d)

69. Which of the following is **not true** about M.R. children ?

- (1) They lack in ability to generalize
- (2) They feel difficulty in abstraction
- (3) They are poor in communication ability
- (4) They can understand cause-effect relationship

70. A good test should not have :

- (1) Subjectivity
- (2) Objectivity
- (3) Reliability
- (4) Validity

68. निःशक्तता के सामाजिक मॉडल के अनुरूप कथन को पहचानिए :

- (a) क्षति को चिकित्सा या अन्य उपचारों से ठीक किया जाना चाहिए।
- (b) निःशक्तता समाज के व्यवस्थित होने के तरीके से उत्पन्न होती है।
- (c) क्षति ध्यान केन्द्रित होती है।
- (d) बच्चे अपने आप में ही महत्वपूर्ण होते हैं।

- (1) (b) और (d) (2) (a) और (c)
(3) (a) और (d) (4) (b), (c) और (d)

69. मंद-बुद्धि वालकों के संबंध में इनमें से कौन सा कथन सही नहीं है ?

- (1) उनमें सामान्यीकरण की योग्यता का अभाव होता है
- (2) उन्हें अमूर्तीकरण में कठिनाई आती है
- (3) उनकी संप्रेषण योग्यता खराब होती है
- (4) वे कारण-प्रभाव संबंध को समझ सकते हैं

70. अच्छी परीक्षा में क्या नहीं होना चाहिए ?

- (1) व्यक्तिपरकता
- (2) वस्तुनिष्ठता
- (3) विश्वसनीयता
- (4) विधिमान्यता